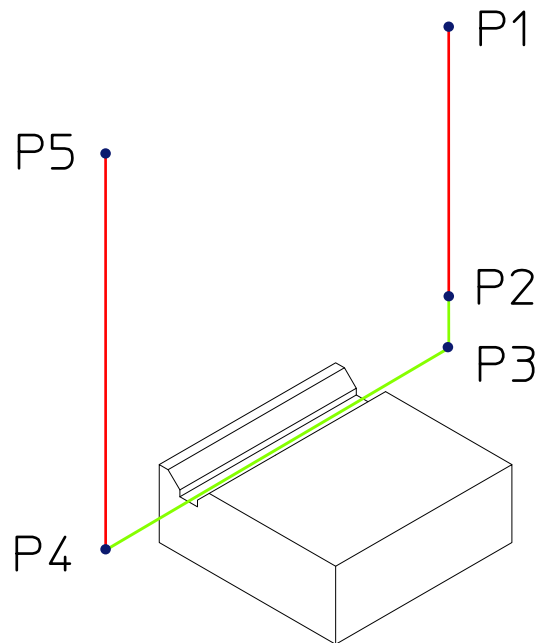
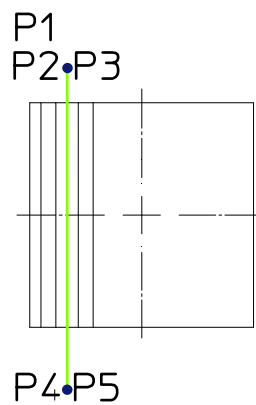
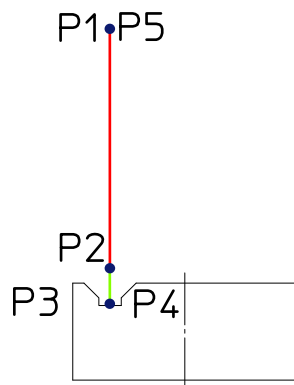


## Koordinaten der Werkzeugbewegung zum Fräsen der Nut. (Lösung)

Aufgabe: Bestimmen Sie die Koordinaten der Werkzeugbewegungen zum Fräsen der Nut.



Punkt	X	Y	Z
P1	4,5	20	50
P2	4,5	20	2
P3	4,5	20	-3
P4	4,5	-20	-3
P5	4,5	-20	50