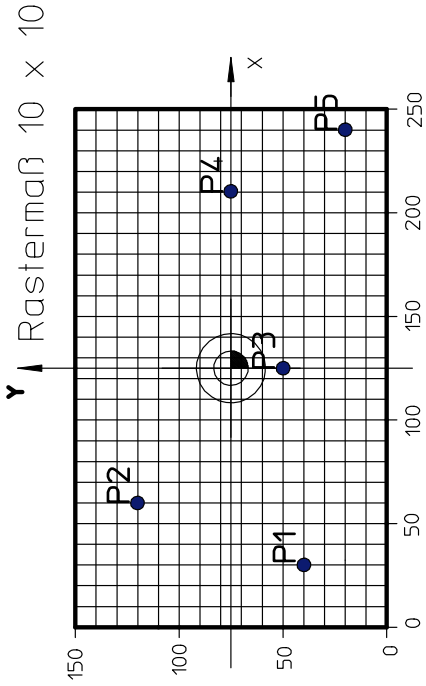
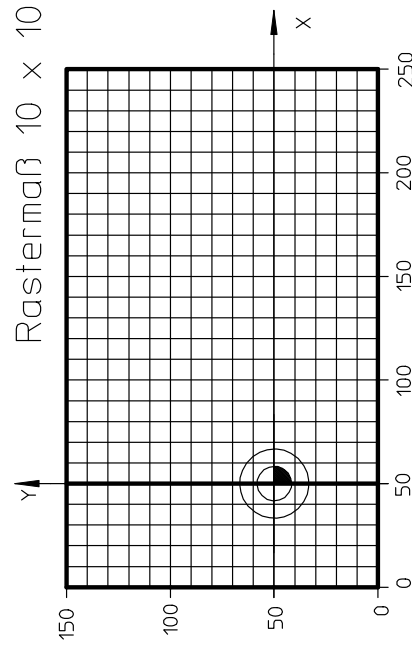


## Koordinatenbestimmung

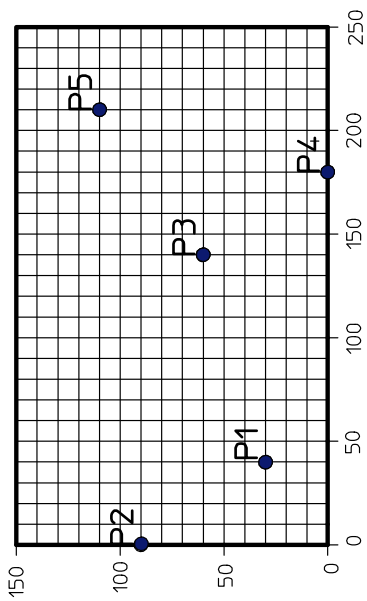
Aufgabe: Bestimmen Sie die Koordinaten der Punkte.  
Tragen Sie die Punkte in die Koordinatensysteme ein.  
Beachten Sie die teilweise verschobenen Nullpunkte.




Punkte	X	Y
P1		
P2		
P3		
P4		
P5		



Punkte	X	Y
P1	120	0
P2	30	-20
P3	-20	0
P4	0	85
P5	-45	-15



Punkte	X	Y
P1		
P2		
P3		
P4		
P5		



Punkte	X	Y
P1	20	130
P2	130	20
P3	70	0
P4	105	60
P5	0	75